
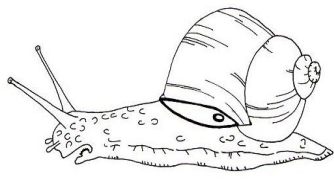

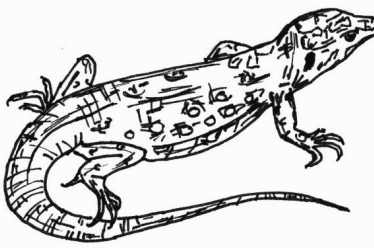







<sup>1</sup> (= solution du matériel 8)

Quels animaux voyez-vous ? Ajoutez les poids qui manquent. Puis classez les animaux selon leur masse. Lequel est le plus léger et lequel est le plus lourd ?

<p>120-200 mg</p>  <p>l'abeille</p>	<p>30 g</p>  <p>l'escargot de Bourgogne</p>	<p>80 g</p>  <p>le pic épeiche</p>
<p>500 g</p>  <p>le lézard ocellé</p>	<p>1 - 3 kg</p>  <p>la genette</p>	<p>5 kg</p>  <p>le lapin</p>
<p>120 000 g</p>  <p>le cochon</p>	<p>200-300 kg</p>  <p>l'ours brun (européen)</p>	<p>500-800 kg</p>  <p>la vache</p>

<sup>1</sup> D'après une idée de Carolin Naß, Erfurt/Allemagne.